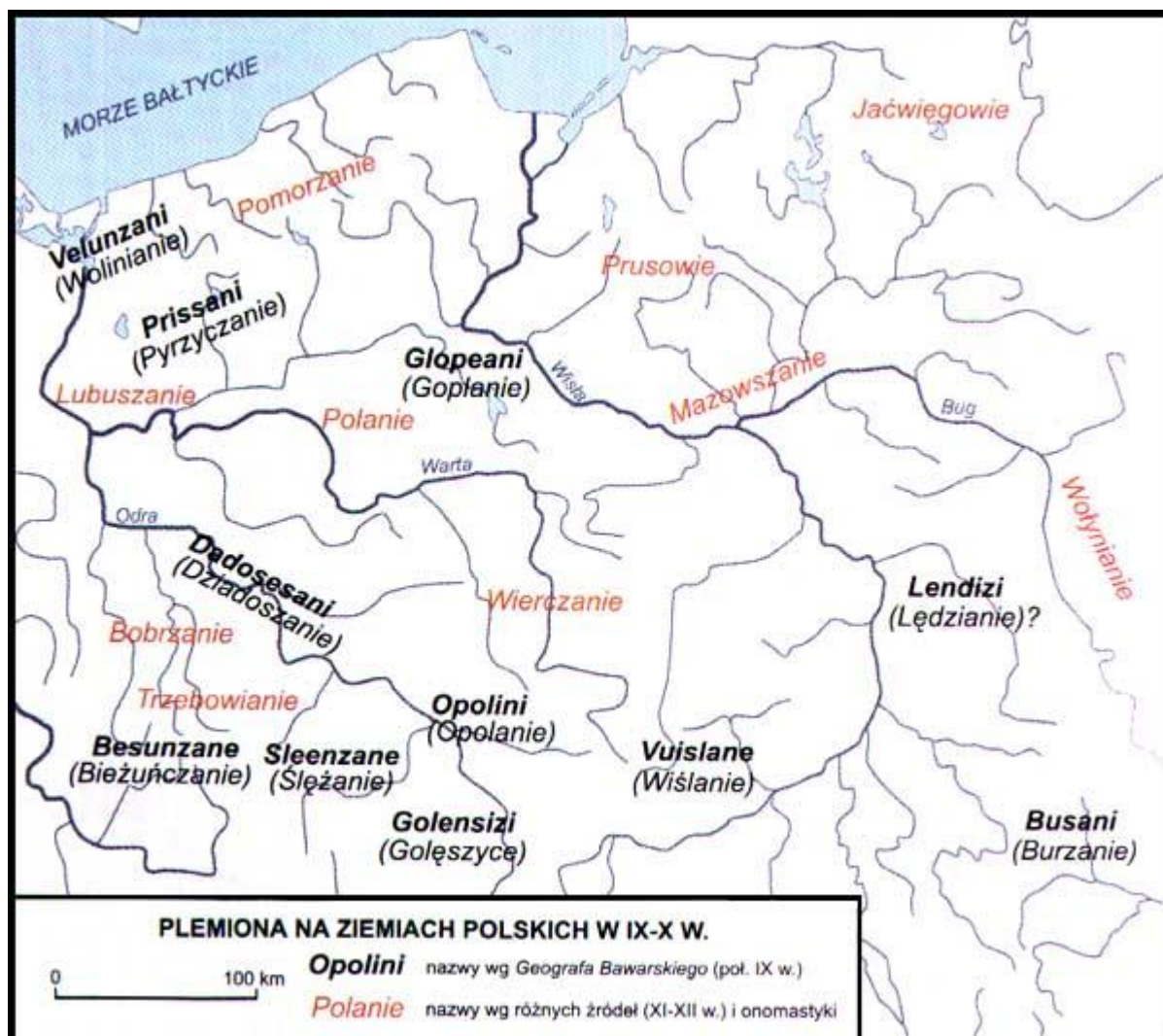


Aleksandra Jeleń
gr. I
poziom: I klasa, szkoła średnia
źródło: <http://www.piastowie.kei.pl/piast/mapa1.htm>



Na podstawie mapy wykonaj następujące polecenia:

1. Odczytaj z mapy jakie plemiona zamieszkiwały obszar współczesnej Polski.
2. Jakim krainom współczesnej Polski odpowiadają ziemie zajmowane przez Polan i Wiślan?
3. Zaznacz na mapie różnymi kolorami granice państwa Mieszka I i współczesne granice Polski.

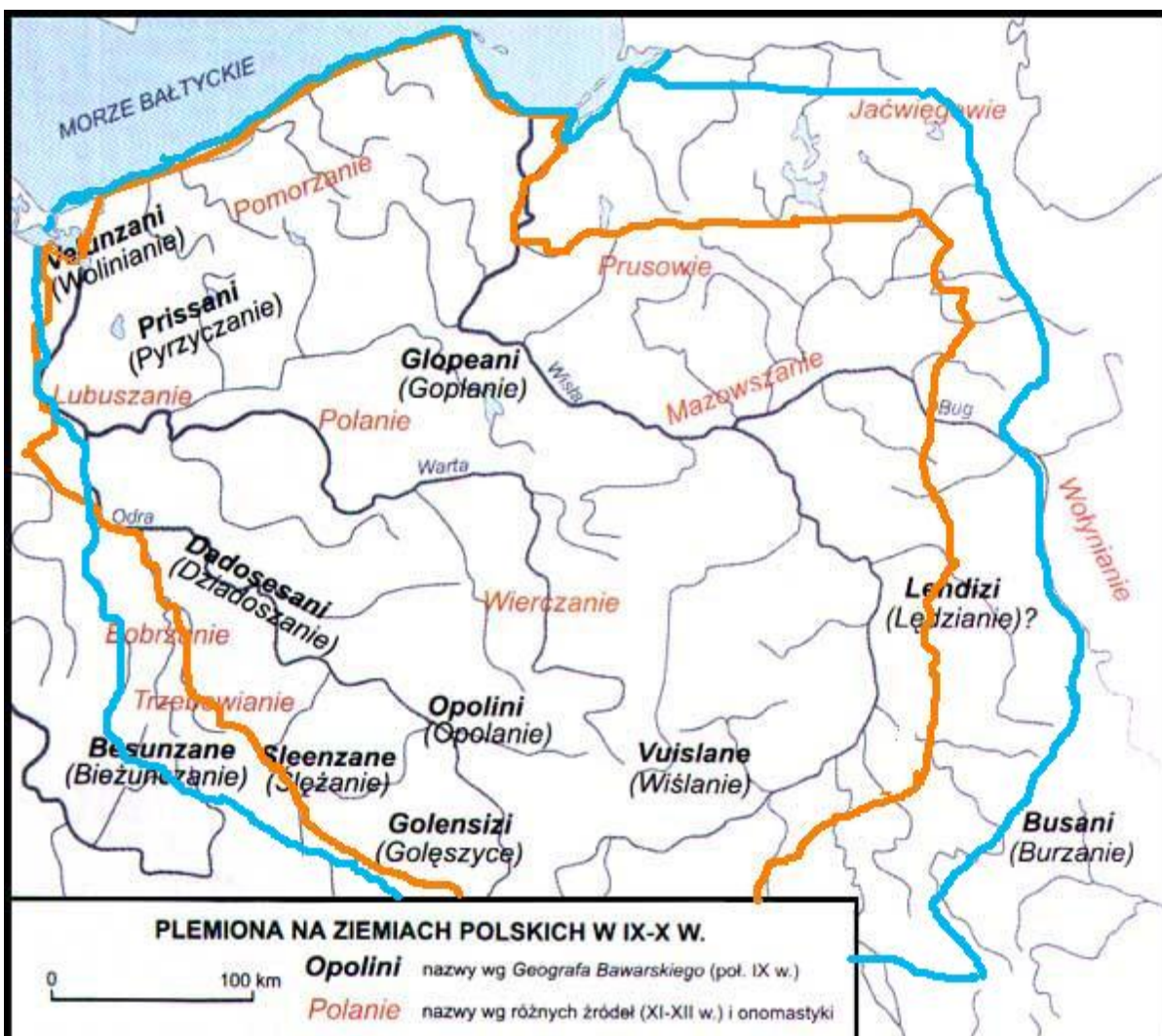
1. Odczytaj z mapy jakie plemiona zamieszkiwały obszar współczesnej Polski.



Obszar współczesnej Polski zamieszkiwały takie plemiona jak: Wolinianie, Pyrzyczanie, Pomorzanie, Lubuszanie, Polanie, Gopłanie, Dziadoszanie, Wierczanie, Opolanie, Wiślanie, Łędzianie, Mazowszanie, Prusowie.

2. Jakim krainom współczesnej Polski odpowiadają ziemie zajmowane przez Polan i Wiślan?

Ziemie Polan to dzisiejsza Wielkopolska, natomiast ziemie zajmowane przez Wiślan to obszar współczesnej Małopolski.

3. Zaznacz na mapie różnymi kolorami granice państwa Mieszka I i współczesne granice Polski.



-  współczesne granice państwa polskiego
-  granice państwa Mieszka I