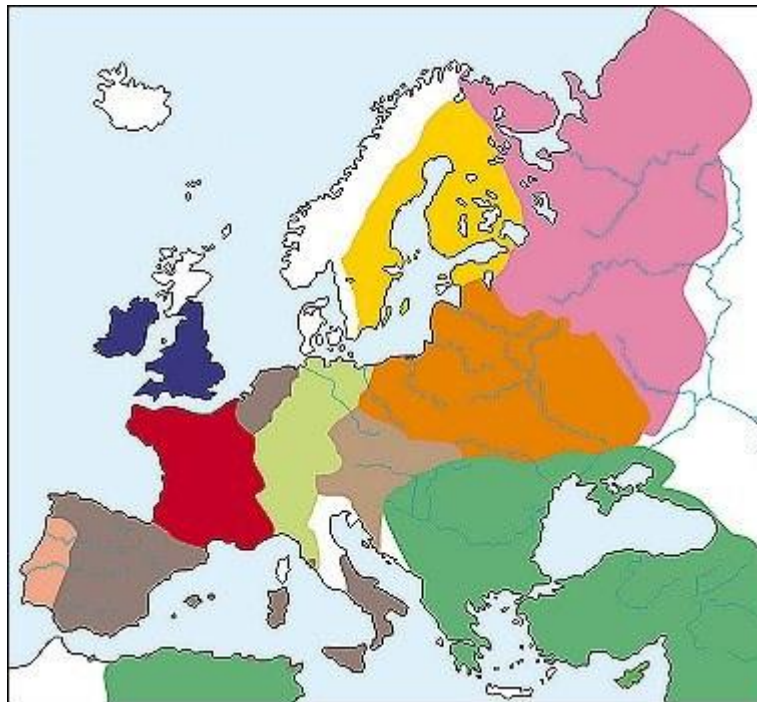




MAPA

Europa w 1570 r.



	Portugalia
	posiadłości Habsburgów Austriackich
	pozostałe obszary Rzeszy
	Państwo Osmańskie
	Szwecja
	Rzeczpospolita Polski i Litwy
	Państwo Moskiewskie
	Anglia
	Hiszpania
	Francja

1. *Wskaż na mapie i nazwij państwa objęte reformacją.*
2. *Jakie wyznania reformowane dominowały w tych państwach?*

Ad.1. Państwa objęte reformacją to: Anglia, Francja, Państwa Niemieckie, Szwajcaria, Państwa Skandynawskie, Rzeczpospolita Polski i Litwy.

Ad.2. Anglia – anglikanizm i kalwinizm

Francja – kalwinizm

Państwa Niemieckie – luteranizm i kalwinizm

Szwajcaria – kalwinizm

Państwa Skandynawskie – luteranizm

Rzeczpospolita Polski i Litwy – kalwinizm i luteranizm